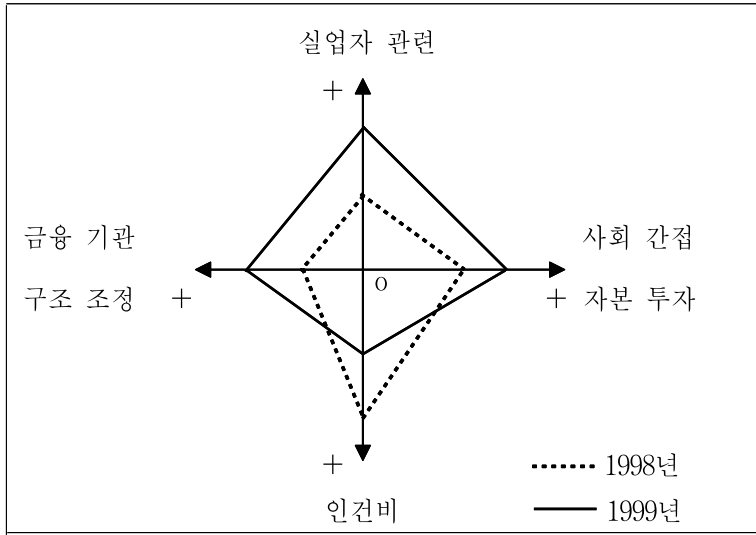


**선택과목**

**경 제**

71. 그림은 어느 나라의 1999년 세출 예산안 가운데 네 부문을 1998년과 비교한 것이다. 그림을 통해 알 수 있는 이 나라 정부의 1999년 정책 방향이 아닌 것은?



- ① 은행의 구조 조정을 촉진시키려 한다.
- ② 실업자에 대한 지원을 강화하려 한다.
- ③ 경기를 부양하기 위해 적자 예산을 편성하려 한다.
- ④ 도로 등의 건설을 통해 고용 창출을 확대하려 한다.
- ⑤ 공무원 수를 줄이거나 공무원 봉급을 삭감하려 한다.

72. “교육 수준이 높은 국가일수록 국민들의 소득도 높다.”는 가설을 검증하기 위해, 형로는 여러 나라의 교육 수준과 국내 총생산에 관한 자료를 수집하겠다는 탐구 설계안을 제출하였다. 이를 읽은 선생님께서는 올바른 탐구가 되려면 자료 하나가 더 필요하다고 하셨다. 형로가 추가로 조사해야 할 자료는? [2점]

- ① 저축률
- ② 인구 수
- ③ 통화량
- ④ 예산 규모
- ⑤ 지급 준비율

73. 다음 내용들에 공통적으로 적용할 수 있는 개념은? [2점]

- 기업이 업무 방식을 개편하여 직원 수를 줄였다.
- 국내 판매만 하던 회사가 수출 시장을 개척하였다.
- 의류 회사가 새 감각의 의류를 만들어 시장에 내놓았다.
- 정유 회사가 새로운 정제 기술을 적용하여 생산 비용을 낮추었다.

- ① 혁신
- ② 산업화
- ③ 공급 법칙
- ④ 비용 최소화
- ⑤ 시장 지배력

74. 다음 자료를 보고 추론한 내용으로 틀린 것은?

구분 \ 연도	1975	1985	1995
생산 가능 인구비(%)	58.4	65.3	70.7
노령 인구비(%)	3.5	4.3	5.9
농림어업 비율(중사자 기준, %)	45.7	24.9	12.5
평균 가구원 수(명)	5.0	4.1	3.3

- ① 핵가족화가 진행되어 왔다.
- ② 앞으로 노령화 사회가 도래할 것이다.
- ③ 농림어업의 경제적 비중이 줄어들었다.
- ④ 생산 가능 인구가 늘어나 경제 성장에 도움이 되었다.
- ⑤ 노령화로 인해 농어촌의 평균 가구원 수는 오히려 늘어났다.

[75~76] 다음 글을 읽고 물음에 답하시오.

(가) 1998년 상반기 가계 소비 동향에 따르면, 1/4분기와 2/4분기에 소득은 각각 2.8%, 5.3% 감소했고, 소비는 각각 8.8%와 13.2%로 더 크게 줄어든 것으로 조사되었다.

(나) 대저, 딴 나라는 사치 때문에 망하기도 하였거니와 우리 나라는 검소함으로써 쇠해졌습니다. …(중략)… 물이 새어드는 배를 타고 떡감기지 않은 말을 타며, 비뚤어진 그릇에 밥을 담아 먹고, 먼지가 푸석거리는 방에 거처함으로 공장과 목축과 질그릇 장수의 일이 망하였습니다. 따라서, 농사일도 거칠어져서 제 시기를 놓치고, 장사도 이윤이 박하여서 업을 잃게 되었습니다.  
(박제가, 『북학의』)

75. 위 글에서 박제가가 말하고자 하는 내용과 관계 깊은 개념은?

- ① 기회 비용
- ② 공적 부조
- ③ 비교 열위
- ④ 규모의 경제
- ⑤ 절약의 역설(逆說)

76. (가)에 나타난 경제 상황이 (나)와 같은 결과를 낳는다고 할 때, 이를 극복하기 위한 정부의 정책으로 적절하지 않은 것은?

- ① 통화량을 줄인다.
- ② 가전 제품의 특별 소비 세율을 내린다.
- ③ 저소득층을 위한 공공 사업을 확대한다.
- ④ 은행의 가계 대출 이자율을 내리도록 유도한다.
- ⑤ 지나친 절약은 오히려 나라 경제에 해가 될 수 있음을 홍보한다.

77. 다음 글을 읽고 옳게 추론한 것들을 <보기>에서 모두 고르면? [1점]

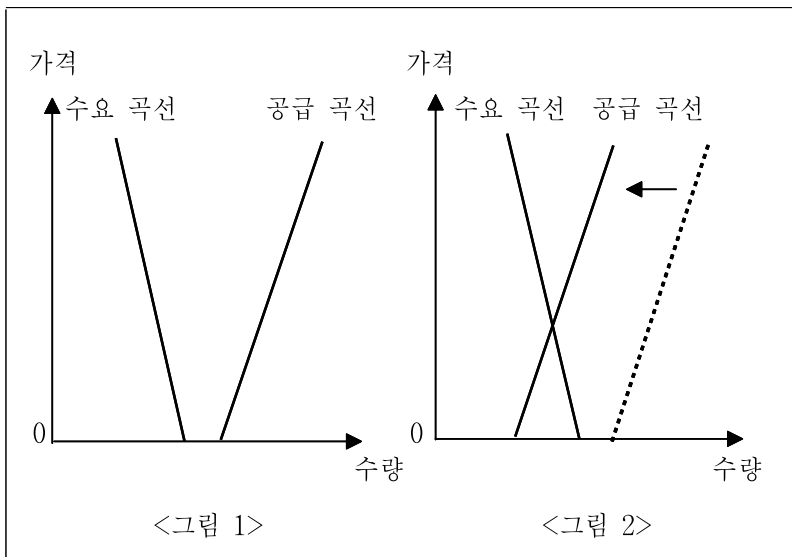
○ 물건은 그 물건의 유용성과, 그 물건을 다른 것과 교환할 수 있는 구매력, 즉 가격을 갖는다. 그런데 물처럼 유용성이 큰 물건들이 때때로 구매력을 거의 가지지 않거나, 이와 반대로 다이아몬드처럼 비싼 물건들이 때때로 유용성이 거의 없는 경우가 있다.  
○ 오아시스도 없는 사막 한가운데에서 한 병의 물은 부르는 게 값이 될 것이다. 그러나 맑은 물이 흐르는 심산계곡에서는 물을 얻기 위해 어느 누구도 돈을 지불하지 않을 것이다. 만약 다이아몬드가 모래처럼 흔하다면 사람들은 다이아몬드를 얻기 위해 지금처럼 큰 돈을 지불하지는 않을 것이다.

< 보기 >

ㄱ. 다이아몬드의 가격이 물보다 비싸서는 안된다.  
ㄴ. 재화가 구매력을 가지려면 희소성이 있어야 한다.  
ㄷ. 재화가 유용성을 가지려면 희소성이 있어야 한다.  
ㄹ. 재화의 가격은 그 재화의 유용성에 의해서만 결정되는 것이 아니다.

- ① ㄱ, ㄴ    ② ㄱ, ㄷ    ③ ㄱ, ㄹ    ④ ㄴ, ㄹ    ⑤ ㄷ, ㄹ

78. 어떤 재화가 <그림 1>과 같이 가격이 0인 자유재 상태에 있다가 공급이 줄어 <그림 2>와 같은 상태로 바뀌었다. 이와 관련한 설명으로 적합하지 않은 것은? [1점]



- ① <그림 1>에서 사람들은 이 재화에 대해 부족함을 느끼지 않는다.  
② <그림 2>에서 이 재화는 경제재이다.  
③ 이렇게 변한 재화의 예로서 깨끗한 식수를 들 수 있다.  
④ 재화의 성격이 이렇게 변한 원인의 하나로 환경 오염을 들 수 있다.  
⑤ 사회적 비용 개념으로는 이 재화의 공급이 감소한 것을 설명할 수 없다.

79. 다음은 진수가 동네 휘발유 시장을 조사하여 만든 표이다.

주유소	구분	휘발유 가격 (원/리터)	고객 수 (명/월)
갑 주유소		1,200	1,960
을 주유소		1,150	1,480

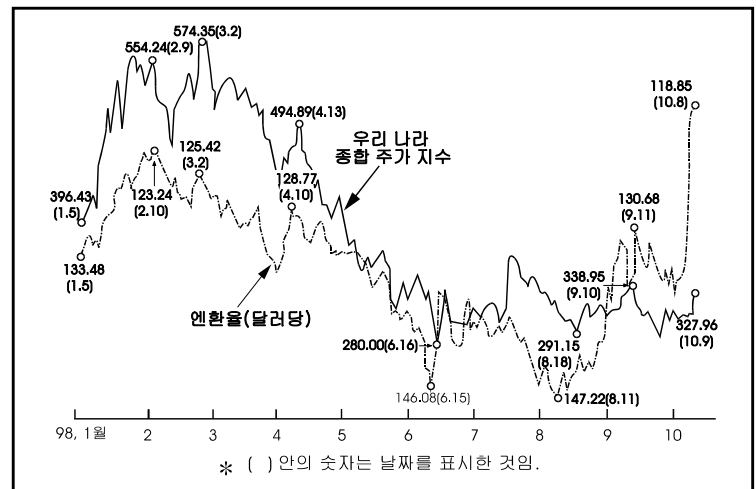
위 표에서 알 수 있는 것을 <보기>에서 모두 고르면?

< 보기 >

ㄱ. 계획 경제 체제에서 나타나는 현상이다.  
ㄴ. 동네 휘발유 시장은 완전 경쟁 시장이 아니다.  
ㄷ. 수요는 가격 이외의 요인에 의해서도 결정된다.  
ㄹ. 갑 주유소의 휘발유 수요의 가격 탄력성은 2이다.

- ① ㄱ, ㄴ    ② ㄱ, ㄷ    ③ ㄱ, ㄹ    ④ ㄴ, ㄷ    ⑤ ㄷ, ㄹ

80. 수정이는 아래의 신문 자료를 보고 “다른 조건이 일정하다면, 엔화 환율이 하락하면 주식 투자자들의 경기에 대한 전망이 좋아져서, 그 결과 주가 지수가 상승한다.”는 가설을 세웠다. <보기>는 가설의 증명을 위한 일련의 과정이다. ( ) 안에 들어갈 내용으로 맞는 것은?



< 보기 >

달러화에 대한 엔화 환율의 하락 → 일본 제품의 달러 표시 가격 상승 → 일본 상품과 경쟁 관계에 있는 우리 수출 상품의 가격 경쟁력 강화 → 우리 수출 기업의 수출 ( A )와 수익성 향상 → 우리 나라 경상수지 ( B ), 경기 전망의 호전 → 주가 상승

- |   |       |       |  |       |       |
|---|-------|-------|--|-------|-------|
|   | ( A ) | ( B ) |  | ( A ) | ( B ) |
| ① | 증가    | 악화    |  | 증가    | 개선    |
| ② | 증가    | 불변    |  | 감소    | 악화    |
| ③ | 감소    | 개선    |  |       |       |

\* 확인 사항

- 문제지와 답안지의 해당란을 정확히 기입(표기)했는지 확인하십시오.  
○ 문제지는 답안지와 함께 제출합니다. 답안지의 표기가 끝나면 답안지는 오른쪽, 문제지는 왼쪽에 놓으시오.